

**МИНИСТЕРСТВО ОБРАЗОВАНИЯ САРАТОВСКОЙ ОБЛАСТИ
ГОСУДАРСТВЕННОЕ БЮДЖЕТНОЕ ОБЩЕОБРАЗОВАТЕЛЬНОЕ
УЧРЕЖДЕНИЕ САРАТОВСКОЙ ОБЛАСТИ
«САРАТОВСКАЯ КАДЕТСКАЯ ШКОЛА-ИНТЕРНАТ № 2
ИМЕНИ В.В.ТАЛАЛИХИНА»**

Адрес: г. Саратов, ул. Чехова А.П.,4а
Тел.(факс): 62-91-50, 62-91-63

Утвержден

Директор

_____/В.В.Богданов/

Приказ № ____

от «__» _____ 2023г.

**КОНТРОЛЬНО-ИЗМЕРИТЕЛЬНЫЕ МАТЕРИАЛЫ
промежуточной аттестации по учебному предмету
биология 6 класс**

основное общее образование

ШМО учителей естественнонаучного и социального цикла

составлены учителем биологии Клевцовой Г.В.

Рассмотрен на заседании
методического совета школы
Протокол № ____
от «__» _____ 2023г.

Описание контрольных измерительных материалов для проведения в 2024 году проверочной работы по БИОЛОГИИ

6 класс

1. Назначение проверочной работы

Проверочная работа проводится в целях осуществления мониторинга результатов перехода на ФГОС и направлены на выявление уровня подготовки школьников.

КИМ позволяют осуществить диагностику достижения предметных и метапредметных результатов обучения, в том числе овладение межпредметными понятиями и способность использования универсальных учебных действий (УУД) в учебной, познавательной и социальной практике. Результаты в совокупности с имеющейся в общеобразовательной организации информацией, отражающей индивидуальные образовательные траектории обучающихся, могут быть использованы для оценки личностных результатов обучения.

Результаты могут быть использованы общеобразовательными организациями для совершенствования методики преподавания в процессе обучения предмету, муниципальными и региональными органами исполнительной власти, осуществляющими государственное управление в сфере образования, для анализа текущего состояния муниципальных и региональных систем образования и формирования программ их развития.

2. Документы, определяющие содержание проверочной работы

Содержание и структура проверочной работы определяются на основе Федерального государственного образовательного стандарта основного общего образования (приказ Минобрнауки России от 17.12.2010 № 1897) с учетом Примерной основной образовательной программы основного общего образования (одобрена решением Федерального учебно-методического объединения по общему образованию (в редакции протокола № 1/20 от 04.02.2020)) и содержания учебников, включенных в Федеральный перечень.

3. Подходы к отбору содержания, разработке структуры проверочной работы

Всероссийские проверочные работы основаны на системно-деятельностном, компетентностном и уровневом подходах.

В рамках ВПР наряду с предметными результатами обучения учеников основной школы оцениваются также метапредметные результаты, в том числе уровень сформированности универсальных учебных познавательных, коммуникативных и регулятивных действий (УУД) и овладения межпредметными понятиями.

КИМ направлены на проверку сформированности у обучающихся:

- специфических биологических умений по работе с биологическими объектами в целях полноценного их изучения;
- видов деятельности по получению нового биологического знания, преобразованию и применению знания в учебных, учебно-проектных и социально-проектных ситуациях;
- естественно-научного типа мышления, научных представлений, владения научной биологической терминологией, ключевыми биологическими понятиями, методами и приемами.

4. Структура проверочной работы

Вариант проверочной работы состоит из 10 заданий, которые различаются по содержанию и характеру решаемых обучающимися задач.

Подпункты задания 1 требуют краткого ответа в виде одного или нескольких слов.

Задания 2.1, 6 требуют краткого ответа в виде одной цифры.

Задания 2.2, 4 (все подпункты), 7, 8, 9, 10 предполагают развернутый ответ ограниченного объема.

Задания 3, 5 требуют установления соответствия элементов двух множеств и записи ответа в виде последовательности цифр.

5. Кодификаторы проверяемых элементов содержания и требований к уровню подготовки обучающихся

В табл. 1 приведен кодификатор проверяемых элементов содержания

Таблица 1

Код	Проверяемые элементы содержания
1	Биология – наука о живых организмах
1.1	Биология как наука. Методы изучения живых организмов. Роль биологии в познании окружающего мира и практической деятельности людей
1.2	Соблюдение правил поведения в окружающей среде. Бережное отношение к природе. Охрана биологических объектов
1.3	Правила работы в кабинете биологии, с биологическими приборами и инструментами
1.4	Свойства живых организмов (<i>структурированность, целостность, обмен веществ, движение, размножение, развитие, раздражимость, приспособленность, наследственность и изменчивость</i>) их проявление у растений, животных, грибов и бактерий
2	Царство Растения
2.1	Многообразие и значение растений в природе и жизни человека
2.2	Общее знакомство с цветковыми растениями. Растительные ткани и органы растений. Вегетативные и генеративные органы. Жизненные формы растений
2.3	Растение – целостный организм (биосистема)
2.4	Условия обитания растений. Среды обитания растений
2.5	Сезонные явления в жизни растений
3	Органы цветкового растения
3.1	Семя. Строение семени
3.2	Корень. Зоны корня. Виды корней. Корневые системы. Значение корня. Видоизменения корней
3.3	Побег. Генеративные и вегетативные побеги. Строение побега. Разнообразие и значение побегов. Видоизмененные побеги
3.4	Почки. Вегетативные и генеративные почки
3.5	Строение листа. Листорасположение. Жилкование листа
3.6	Стебель. Строение и значение стебля
3.7	Строение и значение цветка. Соцветия. Опыление. Виды опыления
3.8	Строение и значение плода. Многообразие плодов. Распространение плодов
4	Микроскопическое строение растений
4.1	Разнообразие растительных клеток
4.2	Ткани растений
4.3	Микроскопическое строение корня. Корневой волосок
4.4	Микроскопическое строение стебля
4.5	Микроскопическое строение листа
5	Жизнедеятельность цветковых растений
5.1	Процессы жизнедеятельности растений. Обмен веществ и превращение энергии: почвенное питание и воздушное питание (фотосинтез), дыхание, удаление конечных продуктов обмена веществ. Транспорт веществ

5.2	<i>Движение. Рост, развитие и размножение растений. Половое размножение растений. Оплодотворение у цветковых растений. Вегетативное размножение растений</i>
5.3	Приемы выращивания, размножения растений и ухода за ними
6	Многообразие растений
6.1	Классификация растений
6.2	Многообразии цветковых растений
6.3	Меры профилактики заболеваний, вызываемых растениями.

В табл. 2 приведен кодификатор проверяемых требований к уровню подготовки.

Таблица 2

Код	Проверяемые требования к уровню подготовки
1	Метапредметные
	1.1 Умение определять понятия, создавать обобщения, устанавливать аналогии, классифицировать, самостоятельно выбирать основания и критерии для классификации
	1.2 Умение устанавливать причинно-следственные связи, строить логическое рассуждение, умозаключение (индуктивное, дедуктивное и по аналогии) и делать выводы
1.3 Умение создавать, применять и преобразовывать знаки и символы, модели и схемы для решения учебных и познавательных задач	
	1.4 Смысловое чтение
	1.5 Умение осознанно использовать речевые средства в соответствии с задачей коммуникации для выражения своих чувств, мыслей и потребностей; планирование и регуляция своей деятельности; владение устной и письменной речью, монологической контекстной речью
	1.6 Формирование и развитие экологического мышления, умение применять его в познавательной, коммуникативной, социальной практике и профессиональной ориентации
	1.7 Умение оценивать правильность выполнения учебной задачи, собственные возможности ее решения
	1.8 Владение основами самоконтроля, самооценки, принятия решений и осуществления осознанного выбора в учебной и познавательной деятельности
2	Предметные
	2.1 Формирование системы научных знаний о живой природе, закономерностях ее развития, исторически быстром сокращении биологического разнообразия в биосфере в результате деятельности человека, для развития современных естественнонаучных представлений о картине мира
	2.2 Формирование первоначальных систематизированных представлений о биологических объектах, процессах, явлениях, закономерностях, об основных биологических теориях, об экосистемной организации жизни, о взаимосвязи живого и неживого в биосфере, о наследственности и изменчивости; овладение понятийным аппаратом биологии
	2.3 Приобретение опыта использования методов биологической науки и проведения несложных биологических экспериментов для изучения живых организмов и человека, проведения экологического мониторинга в окружающей среде

2.4	Формирование основ экологической грамотности: способности оценивать последствия деятельности человека в природе, влияние факторов риска на здоровье человека; выбирать целевые и смысловые установки в своих действиях и поступках по отношению к живой природе, здоровью своему и окружающих; осознание необходимости действий по сохранению биоразнообразия и природных местообитаний видов растений и животных
2.5	Формирование представлений о значении биологических наук в решении проблем необходимости рационального природопользования защиты здоровья людей в условиях быстрого изменения экологического качества окружающей среды
2.6	Освоение приемов оказания первой помощи, рациональной организации труда и отдыха, выращивания и размножения культурных растений и домашних животных, ухода за ними

6. Распределение заданий проверочной работы по позициям кодификаторов

Распределение заданий по позициям кодификаторов приведено в табл. 3.

Таблица 3

№	Проверяемые элементы содержания (умения)	Проверяемые требования к уровню подготовки	Код КЭС/КТ	Уровень сложности	Максимальный балл за выполнение задания	Примерное время выполнения задания обучающимся (в минутах)
1	Свойства живых организмов, их проявление у растений. Жизнедеятельность цветковых растений	выделять существенные признаки биологических объектов (клеток и организмов растений, животных, грибов, бактерий) и процессов, характерных для живых организмов	1.1, 1.4, 8.1, 8.2 / 1.2, 2.2	Б	3	5
2	Микроскопическое строение растений. Ткани растений	устанавливать взаимосвязи между особенностями строения и функциями клеток и тканей, органов и систем органов	5, 6, 8 / 1.1	Б	2	3
3	Царство Растения. Органы цветкового растения. Жизнедеятельность цветковых растений	выделять существенные признаки биологических объектов (клеток и организмов растений, животных, грибов, бактерий) и процессов, характерных для живых организмов	2, 3, 5, 6, 7, 8 / 1.4	П	2	3
4	Царство Растения. Органы цветкового растения	различать по внешнему виду, схемам и описаниям реальные биологические объекты или их изображения, выявлять отличительные признаки	5.2, 6 / 1.1, 2.1	Б	4	5

		биологических объектов				
5	Царство Растения. Органы цветкового растения	различать по внешнему виду, схемам и описаниям реальные биологические объекты или их изображения, выявлять отличительные признаки биологических объектов	6.3, 6.5, 6.6, 6.7 / 1.1, 2.1	Б	2	3
6	Царство Растения. Органы цветкового растения. Жизнедеятельность цветковых растений. Многообразие цветковых растений	выделять существенные признаки биологических объектов (клеток и организмов растений, животных, грибов, бактерий) и процессов, характерных для живых организмов	5, 6, 8 / 1.2, 2.1	Б	1	2
7	Органы цветкового растения. Микроскопическое строение растений	приобретение опыта использования методов биологической науки и проведения несложных биологических экспериментов для изучения живых организмов и человека. Работа с биологическим рисунком и микрофотографией	3, 4 / 1.2, 2.2, 2.3	П	2	6
8	Биология как наука. Методы изучения живых организмов. Свойства живых организмов.	устанавливать причинно-следственные связи, строить логическое рассуждение, умозаключение (индуктивное, дедуктивное и по аналогии) и делать выводы. Приобретение опыта использования методов биологической науки и проведения несложных биологических экспериментов для изучения живых организмов и человека	1.1, 1.4 / 1.2, 2.3	П	4	6
9	Царство Растения Органы цветкового растения. Многообразие цветковых растений	устанавливать причинно-следственные связи, строить логическое рассуждение, умозаключение (индуктивное, дедуктивное и по аналогии) и делать выводы	2, 3, 6. 2 / 1.2, 2.5	Б	1	5
10	Приемы	создавать, применять и	5.3 / 1.3	Б	3	7

выращивания, размножения растений и ухода за ними	преобразовывать знаки и символы, модели и схемы для решения учебных и познавательных задач				
<p>Всего заданий – 10, из них по уровню сложности: Б – 7; П – 3. Время выполнения проверочной работы – 45 мин. Максимальный первичный балл – 24.</p>					

7. Распределение заданий проверочной работы по уровню сложности

В табл. 4 представлена информация о распределении заданий проверочной работы по уровню сложности.

Таблица 4

Уровень сложности заданий	Количество заданий	Максимальный первичный балл	Процент максимального первичного балла за выполнение заданий данного уровня сложности от максимального первичного балла за всю работу, равного 24
Базовый	7	15	63
Повышенный	3	9	37
Итого	10	24	100

8. Типы заданий, сценарии выполнения заданий

Задание 1 направлено на выявление умения описывать биологический процесс. Первая часть задания проверяет умение по рисунку (схеме) выделять существенные признаки процесса. Вторая часть – определять область биологии, в которой изучается данный процесс или метод, с помощью которого данный процесс изучен. Третья – механизм (условие, особенность) протекания процесса или растительная ткань, в клетках которой процесс протекает.

Задание 2 проверяет знание тканей растительного организма и жизненных процессов, протекающих в них.

Задание 3 проверяет умение читать и понимать текст биологического содержания. От обучающегося требуется записать в текст недостающую информацию, воспользовавшись перечнем терминов.

Задание 4 направлено на умение работать с изображением отдельных органов цветкового растения. В первой части требуется назвать части изображенного органа, во второй и третьей частях указать функцию части или особенность строения, а также её значение в жизни растения.

Задание 5 контролирует умение проводить описание биологического объекта по имеющимся моделями (схемам), на примере описания листа или побега.

Задание 6 проверяет знания строения и функции отдельных тканей, органов цветкового растения.

Задание 7 контролирует умение работать с микроскопическими объектами: узнавать микроскопические объекты, определять их значение.

Задание 8 проверяет умение проводить анализ виртуального эксперимента, формулировать гипотезу, ставить цель, описывать результаты, делать выводы на основании полученных результатов.

Задание 9 проверяет умение извлекать информацию, представленную в табличной форме и делать умозаключения на основе её анализа.

Задание 10 контролирует умение применять и преобразовывать символы и знаки в слова для решения познавательных задач, в частности сравнивать условия содержания комнатных растений.

9. Система оценивания выполнения отдельных заданий и проверочной работы в целом

Правильный ответ на каждое из заданий 1.1, 1.2, 1.3, 2.1, 4.3, 6 оценивается 1 баллом.

Полный правильный ответ на задания 3 и 5 оценивается 2 баллами. Если в ответе допущена одна ошибка (в том числе написана лишняя цифра или не написана одна необходимая цифра), выставляется 1 балл; если допущено две или более ошибки – 0 баллов.

Ответы на остальные задания оцениваются по критериям.

Максимальный первичный балл – **24**.

Таблица 5

Рекомендации по переводу первичных баллов в отметки по пятибалльной шкале

Отметка по пятибалльной шкале	«2»	«3»	«4»	«5»
Первичные баллы	0–9	10–14	15–19	20–24

10. Время выполнения варианта проверочной работы

На выполнение проверочной работы по учебному предмету «биология» дается 45 минут.

11. Описание дополнительных материалов и оборудования, необходимых для проведения проверочной работы

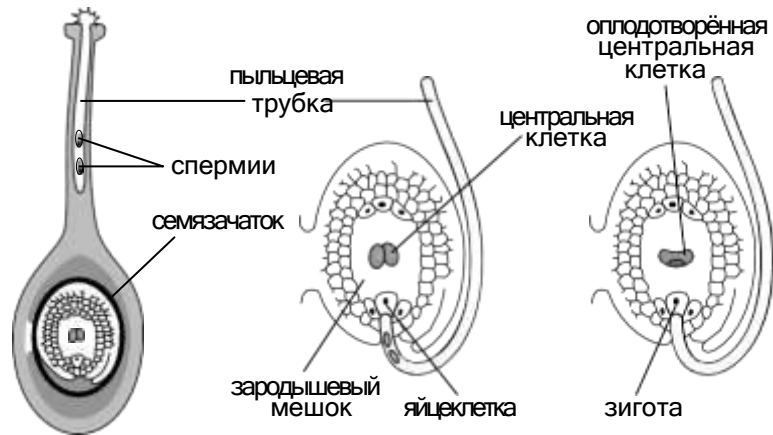
При проведении работы разрешается использовать линейку.

12. Рекомендации по подготовке к работе

Специальная подготовка к проверочной работе не требуется.

1

На представленном ниже рисунке ученик изобразил один из процессов жизнедеятельности растений. Рассмотрите рисунок и ответьте на вопросы.



1.1. Как называют данный процесс?

Ответ. _____

1.2. Знание в какой области ботанической науки позволит ученику изучить данный процесс?

Ответ. _____

1.3. Какой процесс предшествует прорастанию пыльцевого зерна?

Ответ. _____

2

В приведённой ниже таблице между позициями первого и второго столбцов имеется взаимосвязь.

Целое	Часть
...	Камбий
Покровная ткань	Кожица

2.1. Какое понятие следует вписать на место пропуска в этой таблице?

- 1) образовательная ткань
- 2) проводящая ткань
- 3) механическая ткань
- 4) запасаящая ткань

Ответ.

2.2. Какую функцию выполняют ситовидные трубки, расположенные в корнях растений?

Ответ. _____

3

Выберите из предложенного списка и вставьте в текст пропущенные слова, используя для этого их цифровые обозначения. Впишите номера выбранных слов на места пропусков в тексте.

СОСТАВ СЕМЕНИ ФАСОЛИ

В сформированном зародыше фасоли хорошо различаются первые настоящие листья, корешок и верхушка побега – _____(А). В состав зародыша входит две толстые семядоли, в которых отложены сложные _____(Б) вещества, необходимые для прорастания семени. Семядоли – это первые _____(В) растения.

Список слов:

- 1) цветок
- 2) почечка
- 3) плод
- 4) минеральные
- 5) органические
- 6) лист


Запишите в таблицу выбранные цифры под соответствующими буквами.

Ответ.

А	Б	В

4

Рассмотрите изображение побега и выполните задания.



4.1. Покажите стрелками и подпишите на рисунке *стебель, верхушечную почку, междуузлие*.

4.2. Какое листорасположение называют очередным?

Ответ. _____

4.3. Из какой части семени формируется главный побег растения?

Ответ. _____

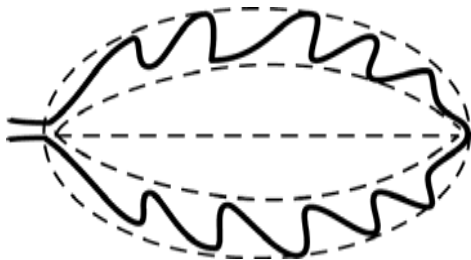
5

Рассмотрите изображение молодого листа монстеры и опишите его по следующему плану: форма листа, жилкование листа, тип листа по соотношению длины и ширины листовой пластинки (без черешка) и по расположению наиболее широкой части. Используйте при выполнении задания линейку и карандаш.




А. Форма листа

1) перисто-лопастная



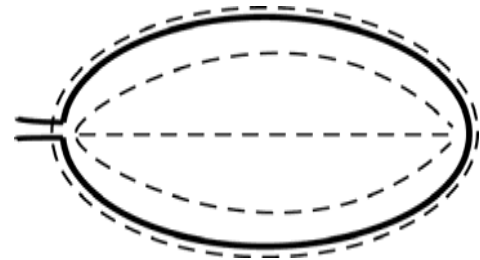
2) перисто-раздельная







3) перисто-рассечённая



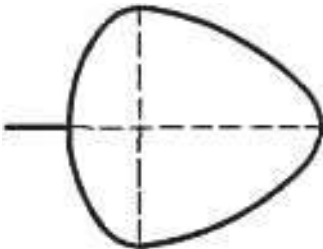
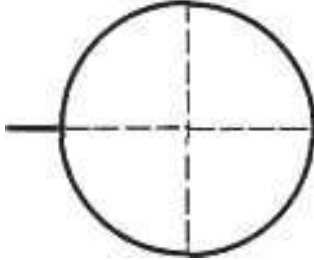
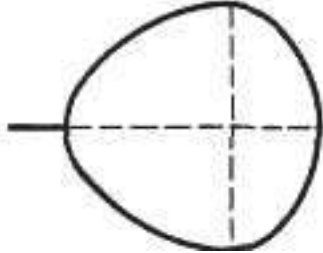
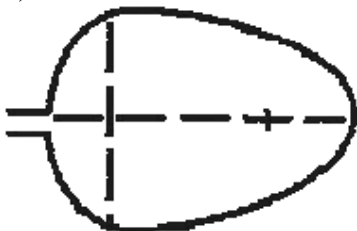
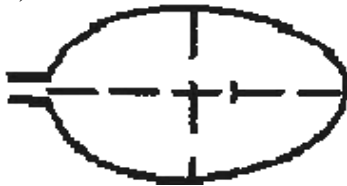
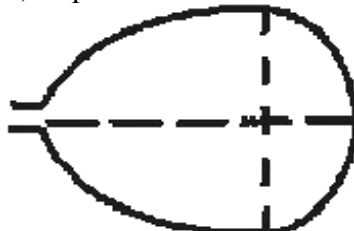
4) цельная



Б. Жилкование листа

			
1) параллельное	2) дуговидное	3) пальчатое	4) перисто-сетчатое

В. Тип листа по соотношению длины и ширины листовой пластинки (без черешка) и по расположению наиболее широкой части

Длина равна ширине или немного её превышает.		
1) широкояйцевидный 	2) округлый 	3) обратно-широкояйцевидный 
Длина превышает ширину в 1,5–2 раза.		
4) яйцевидный 	5) овальный 	6) обратно-яйцевидный 

Впишите в таблицу **номера** выбранных ответов под соответствующими буквами.



Ответ.

А	Б	В

6

Что из перечисленного потребляют в пищу у картофеля?

- 1) плоды
- 2) корнеплоды
- 3) клубни
- 4) корневища

Ответ.

7

Рассмотрите рисунок растительной клетки (рис. 1). Какая структура клетки обозначена на рисунке буквой А?

Ответ. _____

Каково значение этой структуры в жизнедеятельности клетки?

Ответ. _____

Артём рассмотрел под микроскопом кончик корешка лука и сделал микрофотографию (рис. 2). Что он обозначил на фотографии цифрой 1?

Ответ. _____

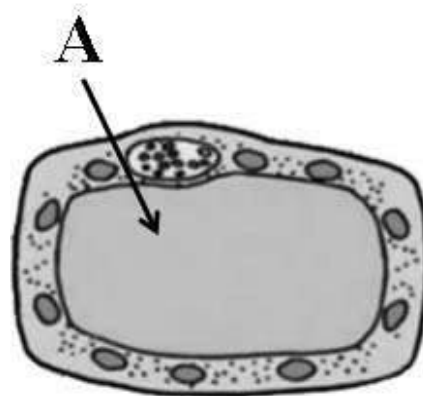


Рис. 1


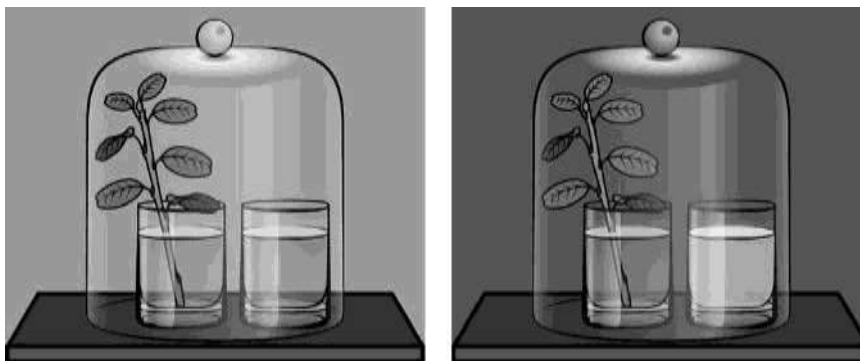


Рис. 2

8

Известно, что растения дышат. Николай решил убедиться в этом, проведя следующий опыт. Он поставил в стакан с водой побег комнатного растения с листьями. Рядом поставил другой стакан с прозрачной известковой водой. Затем закрыл растение и стакан с известковой водой стеклянным колпаком и поместил в тёмный шкаф на сутки. На следующий день Николай обратил внимание на то, что в стакане раствор помутнел.



8.1. Какую задачу ставил Николай, помещая стакан с растением и стакан с известковой водой под стеклянный колпак?

Ответ. _____

Почему Николай поместил растение и стакан с известковой водой в тёмный шкаф?

Ответ. _____

8.2. Какую рекомендацию можно дать по размещению растений в жилом помещении исходя из результатов опыта? Обоснуйте свой ответ.

Ответ. _____

9

Используя приведённую ниже таблицу, ответьте на вопросы.

Содержание минеральных веществ в овощных культурах, мг / 100 г

Овощная культура	Калий	Кальций	Магний	Фосфор	Железо
Капуста белокочанная	185	48	16	31	1,0
Тыква	170	40	14	25	0,8
Свёкла	288	37	43	43	1,4
Редька	357	35	22	26	1,2

Какая овощная культура из представленных в таблице содержит калия менее 180 мг на 100 г?

Ответ. _____

Какая овощная культура из представленных в таблице содержит одинаковое количество магния и фосфора?

Ответ. _____

Какое вещество из перечисленных в таблице содержится в капусте белокочанной в большем количестве, чем в трёх других овощных культурах?









Ответ. _____

10

Растения по-разному относятся к свету, теплу и влаге, и это учитывается цветоводами при разведении различных растений.

Опишите особенности растений агавы и бегонии, которые необходимо учитывать при их разведении в домашних условиях, используя для этого таблицу условных обозначений.

Условные обозначения:

1) Выносливость	 выносливое	 капризное	3) Требуемый режим полива	 сухая земля	 увлажнённая земля	 постоянно влажная земля	 вода в поддоне
2) Требуемая влажность воздуха	 не требует опрыскивания	 регулярное опрыскивание	4) Отношение к свету	1)	2)	3)	4)




Характеристики:



 прямые лучи	 рассеянный свет	 полутень	 тень
--	--	--	---

1) 2) 3) 4)



			
---	---	---	---



Агава:

1) _____

 2) _____

 3) _____

 4) _____

			
--	---	---	---

Бегония:

1) _____

 2) _____

 3) _____

 4) _____

По каким позициям из приведённых в описании эти растения имеют одинаковые характеристики?

Ответ. _____

Система оценивания проверочной работы

Правильный ответ на каждое из заданий 1.1, 1.2, 1.3, 2.1, 4.3, 6 оценивается 1 баллом.

Полный правильный ответ на задания 3 и 5 оценивается 2 баллами. Если в ответе допущена одна ошибка (в том числе написана лишняя цифра или не написана одна необходимая цифра), выставляется 1 балл; если допущено две или более ошибки – 0 баллов.

Номер задания	Правильный ответ
3	256
5	444
6	3

1	1.1	двойное оплодотворение / оплодотворение
	1.2	физиология
	1.3	опыление

2	2.1	1
---	-----	---

2.2

Содержание верного ответа и указания к оцениванию (допускаются иные формулировки ответа, не искажающие его смысла)	Баллы
Правильный ответ должен содержать указание функции: перемещение раствора органических веществ от стебля к корням растения ИЛИ нисходящий ток органических веществ от стебля к корням	
Правильно указана функция	1
Ответ неправильный	0
<i>Максимальный балл</i>	<i>1</i>

4.1

4

Содержание верного ответа и указания по оцениванию	Баллы
Верно подписаны три части побега	2
Верно подписаны только две части побега	1
Верно подписана только одна любая часть побега. ИЛИ Ответ неправильный	0
<i>Максимальный балл</i>	2

4.2

Содержание верного ответа и указания к оцениванию (допускаются иные формулировки ответа, не искажающие его смысла)	Баллы
Правильный ответ должен содержать <u>описание</u> : от каждого узла отходит один лист	
Правильно дано описание	1
Ответ неправильный	0
<i>Максимальный балл</i>	1

4.3

зародышевая почечка / почечка

7

Содержание верного ответа и указания к оцениванию (допускаются иные формулировки ответа, не искажающие его смысла)	Баллы
должны быть даны <u>ответы на три вопроса</u> : 1) вакуоль / вакуоль с клеточным соком; 2) накопление питательных веществ и конечных продуктов обмена веществ ИЛИ обеспечение внутреннего давления на клеточную оболочку; 3) корневой чехлик. Ответы на вопросы могут быть даны в иных, близких по смыслу формулировках	
Даны правильные ответы на три вопроса	2
Даны правильные ответы только на два вопроса	1
Дан правильный ответ только на один любой вопрос. ИЛИ Ответ неправильный	0
<i>Максимальный балл</i>	2

8.1

8

Содержание верного ответа и указания к оцениванию (допускаются иные формулировки ответа, не искажающие его смысла)	Баллы
Должны быть даны <u>ответы на два вопроса</u> : 1) подтвердить факт дыхания у растения; 2) чтобы исключить влияние фотосинтеза на результаты опыта. Ответы на вопросы могут быть даны в иных, близких по смыслу формулировках	
Правильно даны ответы на два вопроса	2
Правильно дан ответ только на один любой вопрос	1
Ответ неправильный	0
<i>Максимальный балл</i>	2

8.2

Содержание верного ответа и указания по оцениванию (допускаются иные формулировки ответа, не искажающие его смысла)	Баллы
Правильный ответ должен содержать следующие <u>элементы</u> : 1) <u>ответ на вопрос</u> : не размещать комнатные растения в спальне; 2) <u>обоснование</u> : ночью в спальне растения будут отрицательно влиять на состояние здоровья человека. Элементы ответа могут быть приведены в иных, близких по смыслу формулировках	
Дан правильный ответ, дано обоснование	2
Правильно дан только ответ на вопрос	1
Ответ на вопрос отсутствует / ответ неправильный	0
<i>Максимальный балл</i>	2

9

Содержание верного ответа и указания по оцениванию	Баллы
Правильный ответ должен содержать <u>ответы на три вопроса</u> : 1) тыква; 2) свёкла; 3) кальций	
Правильно даны ответы на три вопроса	1
Правильно даны ответы только на один-два любых вопроса. ИЛИ Ответ неправильный	0
<i>Максимальный балл</i>	1

Содержание верного ответа и указания по оцениванию	Баллы
<p>Правильный ответ должен содержать следующие <u>элементы</u>.</p> <p>1. <u>Условия выращивания растений</u>:</p> <p><u>агава</u>:</p> <p>1) выносливое; 2) не требует опрыскивания; 3) сухая земля; 4) прямые солнечные лучи;</p> <p><u>бегония</u>:</p> <p>1) выносливое; 2) не требует опрыскивания; 3) увлажнённая земля; 4) рассеянный свет.</p> <p>2. <u>Указание позиций, по которым растения имеют одинаковые характеристики</u>:</p> <p>1) агавы и бегония – выносливые растения ИЛИ выносливость ИЛИ пункт 1; 2) для выращивания не требуют опрыскивания ИЛИ требуемая влажность воздуха ИЛИ пункт 2.</p> <p>Элементы ответа могут быть приведены в более развёрнутых формулировках</p>	
<p>Правильно указаны по четыре условия для выращивания каждого из растений (всего восемь условий). Правильно указаны две одинаковые характеристики</p>	3
<p>Правильно указаны два-три условия для выращивания одного из растений и два–четыре условия для выращивания другого растения (всего четыре–семь условий). Правильно указаны две одинаковые характеристики. ИЛИ Правильно указаны четыре условия для выращивания только одного из растений. Правильно указаны две одинаковые характеристики</p>	2
<p>Правильно указаны два-три условия для выращивания одного из растений и два–четыре условия для выращивания другого растения (всего четыре–семь условий). Правильно указана только одна одинаковая характеристика. ИЛИ Правильно указаны четыре условия для выращивания только одного из растений. Правильно указана только одна одинаковая характеристика</p>	1
<p>Все комбинации элементов, не соответствующие указаниям по выставлению 3, 2 и 1 балла. ИЛИ Ответ неправильный</p>	0
<i>Максимальный балл</i>	3

Система оценивания выполнения всей работы

Максимальный первичный балл – 24.

Рекомендации по переводу первичных баллов в отметки по пятибалльной шкале

Отметка по пятибалльной шкале	«2»	«3»	«4»	«5»
Первичные баллы	0–9	10–14	15–19	20–24