

2

**МИНИСТЕРСТВО ОБРАЗОВАНИЯ САРАТОВСКОЙ ОБЛАСТИ
ГОСУДАРСТВЕННОЕ БЮДЖЕТНОЕ ОБЩЕОБРАЗОВАТЕЛЬНОЕ
УЧРЕЖДЕНИЕ САРАТОВСКОЙ ОБЛАСТИ
«САРАТОВСКАЯ КАДЕТСКАЯ ШКОЛА-ИНТЕРНАТ № 2
ИМЕНИ В.В.ТАЛАЛИХИНА»**

Адрес: г. Саратов, ул. Чехова А.П.,4а
Тел.(факс): 62-91-50, 62-91-63

Утвержден
Директор _____/В.В.Богданов/
Приказ № _____
от «___» _____ 2023г.

**КОНТРОЛЬНО-ИЗМЕРИТЕЛЬНЫЕ МАТЕРИАЛЫ
промежуточной аттестации по учебному предмету
физика 7 класс**

основное общее образование

ШМО учителей математики , информатики и физики

составлены учителем физики Кубарко М.В.

Рассмотрен на заседании
методического совета школы
Протокол № _____
от «___» _____ 2023г.

3

**Описание контрольных измерительных
материалов для проведения в 2024 году
проверочной работы
по ФИЗИКЕ**

1. Назначение всероссийской проверочной работы

Всероссийские проверочные работы (ВПР) проводятся в целях осуществления мониторинга результатов перехода на ФГОС и направлены на выявление качества подготовки обучающихся.

Назначение ВПР по учебному предмету «физика» – оценить качество общеобразовательной подготовки обучающихся 7 классов в соответствии с требованиями ФГОС. ВПР позволяют осуществить диагностику достижения предметных и метапредметных результатов, в том числе овладение межпредметными понятиями и способность использования универсальных учебных действий (УУД) в учебной, познавательной и социальной практике. Результаты ВПР в совокупности с имеющейся в общеобразовательной организации информацией, отражающей индивидуальные образовательные траектории обучающихся, могут быть использованы для оценки личностных результатов обучения.

Результаты ВПР могут быть использованы общеобразовательными организациями для совершенствования методики преподавания физики в процессе обучения предмету, муниципальными и региональными органами исполнительной власти, осуществляющими государственное управление в сфере образования, для анализа текущего состояния муниципальных и региональных систем образования и формирования программ их развития.

Не предусмотрено использование результатов ВПР для оценки деятельности общеобразовательных организаций, учителей, муниципальных и региональных органов исполнительной власти, осуществляющих государственное управление в сфере образования.

2. Документы, определяющие содержание проверочной работы

Содержание и структура проверочной работы определяются на основе Федерального государственного образовательного стандарта основного общего образования (приказ Минобрнауки России от 17.12.2010 № 1897) с учетом Примерной основной образовательной программы основного общего образования (одобрена решением Федерального учебно-методического объединения по общему образованию (протокол от 08.04.2015 № 1/15 (в редакции протокола № 1/20 от 04.02.2020)) и содержания учебников, включенных в Федеральный перечень на 2021/22 учебный год.

3. Подходы к отбору содержания, разработке структуры проверочной работы

Всероссийские проверочные работы основаны на системно-деятельностном, компетентностном и уровневом подходах в обучении.

В рамках ВПР наряду с предметными результатами обучения учащихся основной школы оцениваются также метапредметные результаты, в том числе уровень сформированности универсальных учебных действий (УУД) и овладения межпредметными понятиями.

Предусмотрена оценка сформированности следующих УУД.

Регулятивные действия: целеполагание, планирование, контроль и коррекция, саморегуляция.

Общеучебные универсальные учебные действия: поиск и выделение необходимой информации; структурирование знаний; осознанное и произвольное построение речевого высказывания в письменной форме; выбор наиболее эффективных способов решения задач в зависимости от конкретных условий; рефлексия способов и условий действия; контроль и оценка

процесса и результатов деятельности; смысловое чтение как осмысление цели чтения и выбор вида чтения в зависимости от цели; определение основной и второстепенной информации; моделирование, преобразование модели.

Логические универсальные действия: анализ объектов в целях выделения признаков; синтез, в том числе самостоятельное достраивание с восполнением недостающих компонентов; выбор оснований и критериев для сравнения; подведение под понятие; выведение следствий; установление причинно-следственных связей; построение логической цепи рассуждений; доказательство.

Коммуникативные действия: умение с достаточной полнотой и точностью выражать свои мысли в соответствии с задачами и условиями коммуникации, владение монологической и диалогической формами речи в соответствии с нормами современного русского языка.

Контрольные измерительные материалы (*далее – КИМ*) ВПР направлены на проверку сформированности у обучающихся следующих результатов освоения естественнонаучных учебных предметов: формирование целостной научной картины мира; овладение научным подходом к решению различных задач;

овладение умениями: формулировать гипотезы; конструировать; проводить наблюдения, описание, измерение, эксперименты; оценивать полученные результаты;

овладение умением сопоставлять эмпирические и теоретические знания субъективными реалиями окружающего мира;

– воспитание ответственного и бережного отношения к окружающей среде;

– формирование умений безопасного и эффективного использования лабораторного оборудования, проведения точных измерений и адекватной оценки полученных результатов, представления научно обоснованных аргументов учебных задач.

КИМ ВПР 7 класса направлены на проверку у обучающихся следующих предметных требований:

- 1) формирование представлений о закономерной связи и познаваемости явлений природы, об объективности научного знания; о системообразующей роли физики для развития других естественных наук, техники и технологий; научного мировоззрения как результата изучения основ строения материи и фундаментальных законов физики;
- 2) формирование первоначальных представлений о физической сущности явлений природы (механических, тепловых, электромагнитных и квантовых), видах материи (вещество и поле), движении как способе существования материи; усвоение основных идей механики, атомно-молекулярного учения о строении вещества, элементов электродинамики и квантовой физики; овладение понятийным аппаратом и символическим языком физики;
- 3) приобретение опыта применения научных методов познания, наблюдения физических явлений, проведения опытов, простых экспериментальных исследований, прямых и косвенных измерений с использованием аналоговых и цифровых измерительных приборов; понимание неизбежности погрешностей любых измерений;
- 4) понимание физических основ и принципов действия (работы) машины механизмов, средств передвижения и связи, бытовых приборов, промышленных технологических процессов, влияния их на окружающую среду; осознание возможных причин техногенных и экологических катастроф;
- 5) осознание необходимости применения достижений физики и технологий для рационального природопользования;
- 6) овладение основами безопасного использования естественных и искусственных электрических и магнитных полей, электромагнитных и звуковых волн, естественных и искусственных ионизирующих излучений во избежание их вредного воздействия на окружающую среду и организм человека;
- 7) развитие умения планировать в повседневной жизни свои действия с применением полученных знаний законов механики, электродинамики, термодинамики и тепловых явлений с целью сбережения здоровья;
- 8) формирование представлений о нерациональном использовании природных ресурсов и энергии, загрязнении окружающей среды как следствие несовершенства машин и механизмов.

Тексты заданий в КИМ ВПР 7 класса в целом соответствуют формулировкам, принятым в учебниках, включенных в Федеральный перечень учебников, допущенных Министерством просвещения Российской Федерации к использованию при реализации имеющих государственную аккредитацию образовательных программ основного общего образования.

4. Структура проверочной работы

Вариант проверочной работы включает в себя 11 заданий, которые различаются по содержанию и проверяемым требованиям.

Задания 1, 3–6, 8 и 9 требуют краткого ответа. Задания 2, 7, 10, 11 предполагают развернутую запись решения и ответа.

5. Кодификаторы проверяемых элементов содержания и требований к уровню подготовки обучающихся

В табл. 1 приведен кодификатор проверяемых элементов содержания.

Таблица 1

Коды раздела, темы	Код проверяемого элемента	Проверяемые элементы содержания
1	Физические явления и методы их изучения	
	1.1	Что изучает физика. Физические явления природы.
	1.2	Физические величины, единицы физических величин.
	1.3	Наблюдение и эксперимент. Проведение наблюдений на примере нагревания и кипения воды.
	1.4	Прямые измерения физических величин. Физические приборы.
	1.5	Точность измерений. Запись результата прямого измерения с учетом абсолютной погрешности. Измерение расстояний.
	1.6	Среднее значение по результатам нескольких случайных измерений. Измерение малых величин методом рядов.
	1.7	Выбор способа измерения физической величины на примере измерения массы тела: весы рычажные, пружинные и электронные. Измерение объема жидкости, температуры, времени.
	1.8	Связи между физическими величинами. Плотность вещества. $\rho = m/V$ Косвенные измерения на примере измерения плотности жидкости и твердых тел.
	1.9	Исследование зависимости одной физической величины от другой на примере зависимости пути равномерно движущегося тела от времени движения тела. $x(t) \propto v_x \cdot t$. Представление данных исследования в таблице и на графике с учетом заданной абсолютной погрешности измерений.
	1.10	Гипотеза. Превращение гипотезы в научную теорию на примере становления молекулярно-кинетической теории строения вещества.
	1.11	Физические законы, границы их применимости. Предсказание результатов опыта до его проведения на основе теоретической модели.
	1.12	Физика и окружающий нас мир: мегамир, макромир, микромир. Физика и техника.
	1.13	<i>Практические работы:</i> определение цены деления шкалы измерительного прибора; измерение линейных размеров твердого тела правильной формы, размеров классной комнаты при помощи ультразвукового датчика расстояний, дальности полета тела, брошенного горизонтально, размеров малых тел; массы тел различными способами, объема

		жидкости и твердого тела; времени; температуры при помощи жидкостного термометра и датчика температуры; плотности вещества жидкости и твердого тела; исследование зависимости пути равномерно движущегося тела от времени движения тела
	1.14	<i>Технические устройства:</i> весы, термометр, мерный цилиндр, секундомер
2	МЕХАНИЧЕСКИЕ ЯВЛЕНИЯ	
2.1		Взаимодействие тел
	2.1.1	Виды механического движения. Относительность механического движения. Тело отсчета. Траектория. Путь
	2.1.2	Равномерное и неравномерное движение. Средняя скорость. Формула для вычисления средней скорости: $v = S/t$
	2.1.3	Явление инерции. Сила как мера взаимодействия
	2.1.4	Деформация твердых тел. Виды деформации. Сила упругости. Закон упругой деформации (закон Гука): $F \propto k \cdot l$
	2.1.5	Измерение силы. Сложение сил.
	2.1.6	Сила тяжести. Формула для вычисления силы тяжести вблизи поверхности Земли: $F = mg$ Вес тела.
	2.1.7	Виды трения. Трение покоя и трение скольжения. Формула для вычисления модуля силы трения скольжения: $F_{тр} = \mu \cdot N$
	2.1.8	<i>Практические работы:</i> наблюдение зависимости силы трения скольжения от силы нормального давления, качества обработки поверхностей тел и независимости силы трения от площади соприкосновения тел; измерение силы трения скольжения; исследование зависимости силы упругости от удлинения пружины
	2.1.9	<i>Физические явления в природе:</i> скорости движения в природе, сила трения в природе и технике
	2.1.10	<i>Технические устройства:</i> динамометр, подшипники
	2.1.11	<i>История науки:</i> закон упругой деформации Р. Гука, опыты Г.Галилея по изучению явления инерции, Ш.Кулона по изучению трения
2.2		Давление твердых тел, жидкостей и газов. Плавание тел
	2.2.1	Давление твердого тела: $p = F/S$
	2.2.2	Давление жидкостей и газов. Закон Паскаля.
	2.2.3	Давление в жидкости и газе. Гидростатическое давление внутри жидкости: $p = \rho gh$. Парадокс Паскаля
	2.2.4	Атмосферное давление. Измерение атмосферного давления
	2.2.5	Закон Архимеда. Формула для определения выталкивающей силы, действующей на тело, погруженное в жидкость или газ: $F_A = \rho g V$
	2.2.6	Условие плавания тела. Плавание судов и воздухоплавание
	2.2.7	<i>Практические работы:</i> Измерение давления воздуха в баллоне шприца. Исследования зависимости выталкивающей силы от объёма погруженной части от плотности жидкости, её независимости от плотности тела, от глубины, на которую погружено тело, условий

		плавания тел
	2.2.8	<i>Физические явления в природе:</i> влияние атмосферного давления на живой организм, водяные ключи и устройство артезианских скважин, плавание рыб
	2.2.9	<i>Технические устройства:</i> сообщающиеся сосуды, устройство водопровода, гидравлический пресс, манометр, барометр, высотомер, поршневой насос, ареометр
	2.2.10	<i>История науки:</i> закон Паскаля передачи давления в жидкостях и газах, исследования условия равновесия рычага и закона плавания тел, проведенные Архимедом, опыты Ш.Кулона по изучению трения, Е.Торричелли, Б.Паскаля, О.фон Герике по изучению атмосферного давления; опыты Монгольфье по воздухоплаванию
2.3		Работа, мощность, энергия
	2.3.1	Механическая работа:
	2.3.2	Механическая мощность: $N \square \frac{A}{t}$
	2.3.3	Простые механизмы. Правило равновесия рычага.
	2.3.4	Применение правила равновесия рычага к блоку.
	2.3.5	«Золотое правило» механики. Коэффициент полезного действия механизмов.
	2.3.6	Потенциальная энергии тела, поднятого над Землей: $E_p \square mgh$
	2.3.7	Кинетическая энергия: $E_k \square \frac{mv^2}{2}$
	2.3.8	Полная механическая энергия: $E \square E_k \square E_p$ Законы изменения и сохранения механической энергии
	2.3.9	<i>Практические работы:</i> измерение работы силы трения на заданном пути, коэффициента полезного действия системы блоков; исследование условий равновесия рычага и блоков
	2.3.10	<i>Физические явления в природе:</i> энергия рек и ветра и её использование в технике; мощности живых «двигателей»
2.3.11	<i>Технические устройства:</i> рычаг, подвижный и неподвижный блок, простые механизмы в быту, спортивные тренажеры	

В табл. 2 приведен кодификатор проверяемых результатов обучения.

Таблица 2

Мета-предметный результат	Код проверяемого требования	Проверяемые предметные результаты обучения
1		Умение определять понятия, создавать обобщения, устанавливать аналогии, классифицировать, самостоятельно выбирать основания и критерии для классификации, устанавливать причинно-следственные связи, строить логическое рассуждение, умозаключение (индуктивное, дедуктивное и по аналогии) и делать выводы

1.1	Различать изученные физические явления (равномерное и неравномерное движение, инерция, взаимодействие тел, равновесие твердых тел, имеющих закрепленную ось вращения, передача давления твердыми телами, жидкостями и газами, атмосферное давление, плавание тел) по описанию их характерных свойств и на основе опытов, демонстрирующих данное физическое явление.
1.2	Распознавать проявление изученных физических явлений (см. п.1) в окружающем мире, выделяя их существенные свойства/признаки.
1.3	Описывать изученные свойства тел и физические явления, используя физические величины: путь, скорость, масса и объем тела, плотность вещества, сила, давление, кинетическая энергия, потенциальная энергия, механическая работа, механическая мощность, КПД простого механизма, давление; при описании правильно трактовать физический смысл используемых величин, их обозначения и единицы измерения, находить формулы, связывающие данную физическую величину с другими величинами.
1.4	Характеризовать свойства тел, физические явления и процессы, используя физические законы: закон Гука, закон Архимеда, закон сохранения энергии; при этом давать словесную формулировку закона и записывать его математическое выражение.
1.5	Объяснять физические процессы и свойства тел: выявлять причинно-следственные связи, строить объяснение из 1-2 логических шагов с опорой на 1-2 изученных свойства физических явлений, физических закона или закономерности.
1.6	Распознавать проблемы, которые можно решить при помощи физических методов; в описании исследования выделять проверяемое предположение, находить ошибки в ходе опыта, делать выводы по его результатам.
1.7	Проводить опыты по наблюдению физических явлений или физических свойств тел: формулировать проверяемые предположения, собирать установку из предложенного оборудования и формулировать выводы.
1.8	Проводить прямые измерения физических величин (расстояние, время, масса тела, объём, сила, температура): записывать показания приборов с учетом заданной абсолютной погрешности измерений.
1.9	Проводить исследование зависимостей физических величин с использованием прямых измерений: планировать исследование, собирать установку, следуя предложенному плану, фиксировать результаты полученной зависимости физических величин в виде предложенных таблиц и графиков, делать выводы по результатам исследования.
1.10	Проводить косвенные измерения физических величин, следуя предложенной инструкции: при выполнении измерений собирать экспериментальную установку и вычислять значение величины.
1.11	Приводить примеры практического использования физических знаний в повседневной жизни для обеспечения безопасности при обращении с приборами и техническими устройствами, сохранения здоровья и соблюдения норм экологического поведения в окружающей среде.

	1.12	Приводить примеры вклада российских (Д.И. Менделеев, М.В. Ломоносов, Н.П. Петров и др.) и зарубежных (Г. Галилей, Р. Гук, Е. Торричелли, Б. Паскаль, Архимед и др.) ученых-физиков в развитие науки, объяснение процессов окружающего мира, в развитие техники и технологий.
2	Умение создавать, применять и преобразовывать знаки и символы, модели и схемы для решения учебных и познавательных задач	
	2.1	Решать расчетные задачи в 1-2 действия по одной из тем курса физики, используя законы и формулы, связывающие физические величины: на основе анализа условия задачи записывать краткое условие, подставлять физические величины в формулы и проводить расчеты.
	2.2	Обосновывать выбор изученных физических моделей (материальная точка).
	2.3	Указывать принципы действия приборов и технических устройств.
	2.4	Распознавать простые технические устройств и измерительные приборы по схемам и схематичным рисункам.
3	Смысловое чтение	
	3.1	Использовать при выполнении учебных заданий научно-популярную литературу физического содержания, справочные материалы, ресурсы сети Интернет: владеть приемами конспектирования текста, преобразования информации из одной знаковой системы в другую.
	3.2	Создавать собственные письменные и устные краткие сообщения на основе 2-3 источников информации, грамотно использовать изученный понятийный аппарат курса физики, сопровождать выступление презентацией.
4	Умение организовывать учебное сотрудничество и совместную деятельность с учителем и сверстниками; работать индивидуально и в группе	
	4.1	При работе в группе сверстников распределять обязанности в соответствии с поставленными задачами, следить за выполнением плана действий, адекватно оценивать собственный вклад в деятельность группы.
5	Умение осознанно использовать речевые средства в соответствии с задачей коммуникации для выражения своих чувств, мыслей и потребностей	
	5.1	При работе в группе сверстников выстраивать коммуникативное взаимодействие, учитывая мнение окружающих.
6	Формирование и развитие компетентности в области использования информационно-коммуникационных технологий	
	6.1	Осуществлять отбор источников информации в сети Интернет в соответствии с заданным поисковым запросом, на основе имеющихся знаний выделять информацию, которая является противоречивой или может быть недостоверной.
7	Определять способы действий в рамках предложенных условий и требований, корректировать свои действия в соответствии с изменяющейся ситуацией	
	7.1	Соблюдать правила безопасного труда при работе с учебным и лабораторным оборудованием.

6. Распределение заданий проверочной работы по позициям кодификаторов

Распределение заданий по позициям кодификаторов приведено в табл. 3.

Таблица 3

№	Проверяемые требования (умения)	Блоки ПООП ООО выпускник научится / получит возможность научиться	Код КЭС /КТ	Уровень сложно- сти	Максимальный балл за выполнение задания	Примерное время выполнения задания обучающимся (в минутах)
1	1.8	проводить прямые измерения физических величин: время, расстояние, масса тела, объем, сила, температура, атмосферное давление, и использовать простейшие методы оценки погрешностей измерений.	1.2, 1.4, 1.5, 1.7, 1.13, 1.14	Б	1	2
2	1.2, 1.3, 1.4, 1.5	распознавать механические явления и объяснять на основе имеющихся знаний основные свойства или условия протекания этих явлений: равномерное и неравномерное движение, инерция, взаимодействие тел, передача давления твердыми телами, жидкостями и газами, атмосферное давление, плавание тел; анализировать ситуации практико-ориентированного характера, узнавать в них проявление изученных физических явлений или закономерностей и применять имеющиеся знания для их объяснения;	1.1, 2.1.2, 2.1.3, 2.2.1, 2.2.2, 2.2.4	Б	2	3
3	1.4, 2.1	решать задачи, используя физические законы (закон Гука, закон Архимеда) и формулы, связывающие физические величины (путь, скорость, масса тела, плотность вещества, сила, давление, кинетическая энергия, потенциальная энергия, сила трения скольжения, коэффициент трения): на основе анализа условия задачи выделять физические величины, законы и формулы, необходимые для ее решения, проводить расчеты.	1.8 , 2.1.2 , 2.1.4 , 2.1.7 , 2.2.1 , 2.2.5 , 2.3.6 , 2.3.7	Б	1	2

4	1.3, 2.1	решать задачи, используя формулы, связывающие физические величины (путь, скорость тела): на основе анализа условия задачи записывать краткое условие, выделять физические величины, законы и формулы, необходимые для ее решения, проводить расчеты.	1.9, 2.1.1, 2.1.2	Б	1	2
5	1.4, 1.6, 1.7, 1.9, 2.1	интерпретировать результаты наблюдений и опытов;	1.7, 1.13, 2.1.4, 2.3.9, 2.3.1	Б	1	2

6	1.2, 1.3, 2.1	анализировать ситуации практико-ориентированного характера, узнавать в них проявление изученных физических явлений или закономерностей и применять имеющиеся знания для их объяснения;	1.8, 2.1.2, 2.1.5, 2.1.6, 2.2.1, 2.3.2	П	1	2
7	1.5, 3.1	использовать при выполнении учебных задач справочные материалы; делать выводы по результатам исследования;	1.8, 1.9, 1.11, 2.1.2, 2.1.4, 2.1.5, 2.1.7, 2.1.8	П	2	4
8	1.4, 2.1	решать задачи, используя физические законы (закон Паскаля, закон Архимеда) и формулы, связывающие физические величины (масса тела, плотность вещества, сила, давление): на основе анализа условия задачи выделять физические величины, законы и формулы, необходимые для ее решения, проводить расчеты.	1.8, 2.2.1 – 2.2. 7	П	1	4
9	1.3, 2.1	решать задачи, используя формулы, связывающие физические величины (путь, скорость, масса тела, плотность вещества, сила, давление): на основе анализа условия задачи, выделять физические величины и формулы, необходимые для ее решения, проводить расчеты.	1.8, 2.1.2, 2.2.1	П	2	6

10	1.3, 2.1, 2.2	решать задачи, используя физические законы (закон сохранения энергии, закон Гука, закон Паскаля, закон Архимеда) и формулы, связывающие физические величины (путь, скорость, масса тела, плотность вещества, сила, давление, кинетическая энергия, потенциальная энергия, механическая работа, механическая мощность, КПД простого механизма, сила трения скольжения, коэффициент трения): на основе анализа условия задачи записывать краткое условие, выделять физические величины, законы и формулы, необходимые для ее решения, проводить расчеты и оценивать реальность полученного значения физической величины.	2.2.2-2.2.5, 2.3.1-2.3.8	В	3	8
11	1.7, 1.9, 1.10, 2.3, 3.1	анализировать отдельные этапы проведения исследований и интерпретировать результаты наблюдений и опытов; решать задачи, используя физические законы (закон сохранения энергии, закон Гука, закон Паскаля, закон Архимеда) и формулы, связывающие физические величины (путь, скорость, масса тела, плотность вещества, сила, давление, кинетическая энергия, потенциальная энергия, механическая работа, механическая мощность, КПД простого механизма, сила трения скольжения, коэффициент трения): на основе анализа	1.3 - 1.6, 1.8, 1.13, 2.1.8	В	3	10

		условия задачи записывать краткое условие, выделять физические величины, законы и формулы, необходимые для ее решения, проводить расчеты и оценивать реальность полученного значения физической величины.				
<p>Всего 11 заданий, из них по уровню сложности Б (базовый) – 5; П (повышенный) – 4; В (высокий) – 2. Время выполнения проверочной работы – 45 минут. Максимальный первичный балл – 18.</p>						

7. Распределение заданий проверочной работы по уровню сложности

Задания 1, 2, 3, 4, 5 проверочной работы относятся к базовому уровню сложности.

Задания 6, 7, 8, 9 проверочной работы относятся к повышенному уровню сложности.

Задания 10, 11 проверочной работы относятся к высокому уровню сложности.

8. Типы заданий, сценарии выполнения заданий

В задании 1 проверяется осознание учеником роли эксперимента в физике, понимание способов измерения изученных физических величин, понимание неизбежности погрешностей при проведении измерений и умение оценивать эти погрешности, умение определить значение физической величины по показаниям приборов, а также цену деления прибора. В качестве ответа необходимо привести

численный результат.

В задании 2 проверяется сформированность у обучающихся базовых представлений о физической сущности явлений, наблюдаемых в природе и в повседневной жизни (в быту). Обучающимся необходимо привести развернутый ответ на вопрос: назвать явление и качественно объяснить его суть, либо записать формулу и назвать входящие в нее величины.

В задании 3 проверяется умение использовать закон/понятие в конкретных условиях. Обучающимся необходимо решить простую задачу (один логический шаг или одно действие). В качестве ответа необходимо привести численный результат.

Задание 4 – задача с графиком. Проверяются умения читать графики, извлекать из них информацию и делать на ее основе выводы. В качестве ответа необходимо привести численный результат.

Задание 5 проверяет умение интерпретировать результаты физического эксперимента. Проверяются умения делать логические выводы из представленных экспериментальных данных, пользоваться для этого теоретическими сведениями. В качестве ответа необходимо привести численный результат.

Задание 6 – текстовая задача из реальной жизни, проверяющая умение применять в бытовых (жизненных) ситуациях знание физических явлений и объясняющих их количественных закономерностей. В качестве ответа необходимо привести численный результат.

Задание 7 – задача, проверяющая умение работать с экспериментальными данными, представленными в виде таблиц. Проверяется умение сопоставлять экспериментальные данные и теоретические сведения, делать из них

выводы, совместно использовать для

этого различные физические законы. Необходим краткий текстовый ответ.

Задание 8 – задача по теме «Основы гидростатики». В качестве ответа необходимо привести численный результат.

Задание 9 – задача, проверяющая знание школьниками понятия «средняя величина», умение усреднять различные физические величины, переводить их значения из одних единиц измерения в другие. Задача содержит два

вопроса. В качестве ответа необходимо привести два

численных результата.

Задания 10, 11 требуют от обучающихся умения самостоятельно строить модель описанного явления, применять к нему известные законы физики, выполнять анализ исходных данных или полученных результатов.

Задание 10 – комбинированная задача, требующая совместного использования различных физических законов, работы с графиками, построения физической модели, анализа исходных данных или результатов.

Задача содержит три вопроса. Требуется развернутое решение.

Задание 11 нацелено на проверку понимания обучающимися базовых принципов обработки экспериментальных данных с учетом погрешностей измерения. Проверяет способность разбираться в нетипичной ситуации. Задача содержит три вопроса. Требуется развернутое решение.

9. Система оценивания выполнения отдельных заданий и проверочной работы в целом

Правильный ответ на каждое из заданий 1, 3-6, 8 оценивается 1 баллом. Полный правильный ответ на задание 9 оценивается 2 баллами. Если в ответе допущена одна ошибка (одно из чисел не записано или записано неправильно), выставляется 1 балл; если оба числа записаны неправильно или не записаны – 0 баллов.

Ответ на каждое из заданий 2, 7, 10, 11 оценивается в соответствии с критериями.

Максимальный первичный балл – 18.

Отметка по пятибалльной шкале	«2»	«3»	«4»	«5»
Первичные баллы	0-4	5-7	8-10	11-
			18	

10. время выполнения варианта проверочной работы

На выполнение проверочной работы дается 45 минут.

11. Описание дополнительных материалов и оборудования, необходимых для проведения проверочной работы

При проведении работы может использоваться непрограммируемый калькулятор.

12. Рекомендации по подготовке к работе

Специальная подготовка к проверочной работе не требуется

7 класс

Вариант 1

**Инструкция по выполнению
работы**

На выполнение работы по физике даётся 45 минут. Работа содержит 11 заданий.

Ответом на каждое из заданий 1, 3-6, 8, 9 является число или несколько чисел. В заданиях 2 и 7 нужно написать текстовый ответ. В заданиях 10 и 11 нужно написать решения задач полностью. В случае записи неверного ответа зачеркните его и запишите рядом новый.

При выполнении работы можно пользоваться непрограммируемым калькулятором.

При необходимости можно пользоваться черновиком. Записи в черновике проверяться и оцениваться не будут.



Советуем выполнять задания в том порядке, в котором они даны. Для экономии времени пропускайте задание, которое не удаётся выполнить сразу, и переходите к следующему. Постарайтесь выполнить как можно больше заданий.

Желаем успеха!

Номер задания	1	2	3	4	5	6	7	8	9	10	11	Сумма баллов	Отметка за работу
Баллы													

Таблица для внесения баллов участника

- 1 Глеб решил измерить время, за которое его друг Петя пробегает один километр. У Глеба дома было три прибора для измерения времени – песочные часы, будильник и секундомер (с дополнительным малым циферблатом для измерения числа прошедших минут). Чему равна цена деления того прибора, которым надо воспользоваться Глебу для того, чтобы измерить время забегавмаксимал точно?



Ответ: _____ с.

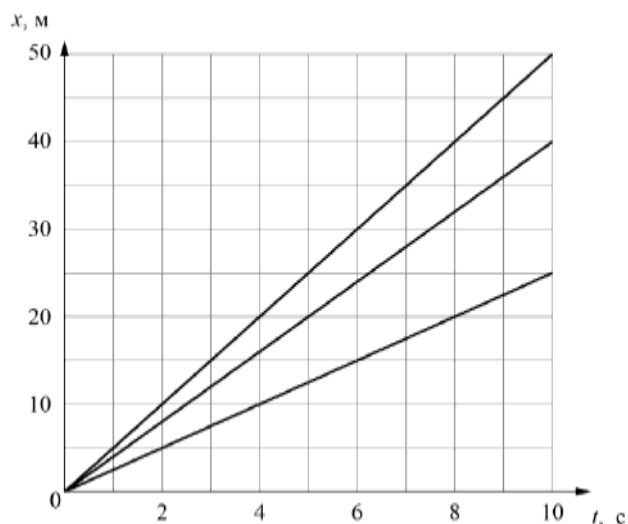
- 2 Машинное масло достаточно легко удаляется с поверхности медных деталей. Однако, если медную деталь покрыть слоем ртути, то удалить её с поверхности будет практически невозможно. Какое свойство молекул лежит в основе этого явления? Что можно сказать о взаимном притяжении между молекулами меди и масла, меди и ртути?

Ответ: _____

- 3 Средняя сила удара молотка по гвоздю составляет 25 Н. Какое давление оказывает забиваемый гвоздь на доску в процессе удара, если площадь поперечного сечения его острия $0,000002 \text{ м}^2$?

Ответ: _____ Па.

- 4 Петя, Варя и Паша устроили велосипедные гонки. Петя обогнал Варю. Паша тоже обогнал Варю, но отстал от Пети. Пользуясь графиком зависимости координаты от времени, определите, какое расстояние проехал Паша за 5 секунд.



Ответ: _____ м.

5

Илье стало интересно, чему примерно равен объём картофелины среднего размера. Он попросил у учителя физики 10 цилиндров объёмом 40 мл каждый и положил их в кастрюлю, после чего налил туда воду почти доверху. Затем Илья вынул из кастрюли все цилиндры и начал класть в неё картофелины. Оказалось, что после погружения восьми картофелин уровень воды в кастрюле вернулся к уровню, который был до вынимания цилиндров. оцените объём одной картофелины, считая, что все они были примерно одинаковыми.

Ответ: _____ мл.

6

Для постройки гаража дачнику не хватило песчано-цементной смеси. Для её изготовления было дополнительно заказано 200 кг песка. Но тележка, в которой можно его перевозить, вмещает только $0,02 \text{ м}^3$. Какое минимальное число раз дачнику придётся загружать эту тележку для того, чтобы перевезти весь песок? Плотность песка при его насыпании в тележку (так называемая насыпная плотность) 1600 кг/м^3 .

Ответ: _____.

7

Группе туристов нужно было пройти за день по просёлочной дороге 35 км. Они шли без остановок, поскольку опасались, что опоздают на поезд. Один из туристов, глядя на километровые столбы у дороги и на свои часы, записывал в блокнот, какое расстояние прошла группа, и сколько времени прошло с момента начала пути.

Проходимое расстояние, км	Время движения, мин.
7	75

14	150
21	225
28	300
35	375

Изучите записи и определите, можно ли по имеющимся данным рассматривать движение группы как равномерное или нет?



Ответ: _____

8

Ходить по рыхлому снегу неудобно, так как ноги всё время проваливаются в него. Если такая прогулка всё же необходима, то используют снегоступы. Какой должна быть минимальная площадь одного снегоступа для того, чтобы человек массой 64 кг проваливался в снег не более чем на 5 см? На рыхлом снегу это условие соблюдается при давлении не более 16 кПа. Учтите, что когда человек делает шаг при ходьбе, то в какие-то промежутки времени он опирается только на одну ногу.



Ответ: _____ м².

9

До наших дней в некоторых арабских странах существует верблюжья кавалерия. Кавалерист скачет на верблюде со скоростью 16 км/ч от города до оазиса, находящегося на расстоянии 48 км. Там он останавливается на время, равное 1/3 времени движения от города до оазиса. Затем кавалерист на уставшем верблюде отправляется обратно в город со скоростью 12 км/ч.



- 1) Какое время кавалерист отсутствовал в городе?
- 2) Определите среднюю путевую скорость кавалериста за всё время его отсутствия в городе.

Ответ: 1) _____ ч;

2) _____ км/ч.

10

В лаборатории завода в запаянной колбе из толстого стекла хранилась ртуть. Перед отправкой ртути в производственный цех завода лаборанту было поручено, не вскрывая колбу, измерить массу ртути. Лаборант определил массу колбы с ртутью и внешний объём колбы. Измерения дали результат: $m = 1,166$ кг и $V = 200 \text{ см}^3$. Используя справочные данные, лаборант правильно вычислил массу ртути. Плотность ртути $\rho_r = 13,6 \text{ г/см}^3$, плотность стекла $\rho_c = 2,5 \text{ г/см}^3$.

- 1) Чему равна масса колбы с ртутью, если её выразить в граммах?
- 2) Определите массу ртути в колбе, если ртуть заполняла внутреннее пространство колбы практически полностью.
- 3) Во сколько раз масса ртути больше массы пустой колбы?

Округлите до сотых. Напишите полное решение этой задачи.

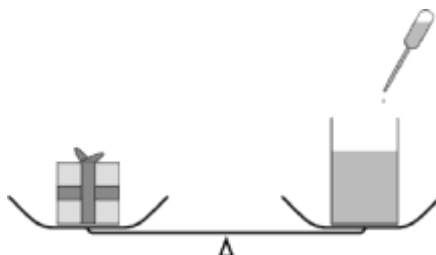
Ответы на вопросы обоснуйте соответствующими рассуждениями или решением задачи.

Решение:														
Ответ:														

11

В день рождения лаборанту Дмитрию подарили подарок, который Дмитрий решил взвесить (он всё всегда взвешивал). Для этого Дмитрий использовал равноплечие рычажные весы. На одну из чашек лаборант положил подарок, а на другую – поставил пустой стакан массой 100 г. Подарок перевесил. Тогда Дмитрий начал наливать в стакан воду порциями по 15 мл. После пятого доливания чашка весов с подарком поднялась. Тогда Дмитрий удалил из стакана 10 мл воды, и подарок снова перевесил.

- 1) Какую массу имеет одна порция воды объёмом 15 мл?
- 2) Какая масса воды была добавлена в стакан к тому моменту, когда чаша с подарком поднялась?
- 3) Оцените массу подарка



7 класс
Вариант 2
Инструкция по выполнению
работы

На выполнение работы по физике даётся 45 минут. Работа содержит 11 заданий.

Ответом на каждое из заданий 1, 3-6, 8, 9 является число или несколько чисел. В заданиях 2 и 7 нужно написать текстовый ответ. В заданиях 10 и 11 нужно написать решения задач полностью. В случае записи неверного ответа зачеркните его и запишите рядом новый.

При выполнении работы можно пользоваться непрограммируемым калькулятором.

При необходимости можно пользоваться черновиком. Записи в черновике проверяться и оцениваться не будут.

Советуем выполнять задания в том порядке, в котором они даны. Для экономии времени пропускайте задание, которое не удаётся выполнить сразу, и переходите к следующему. Постарайтесь выполнить как можно больше заданий.

Желаем успеха!

Номер задания	1	2	3	4	5	6	7	8	9	10	11	Сумма баллов	Отметка за работу
Баллы													

Таблица для внесения баллов участника

- 1 Занятия по физике у Полины начинаются ровно в 09:00. Перед тем как войти в класс, она посмотрела на настенные часы в школьном коридоре. На сколько



секунд Полина опоздала на занятия?

Ответ: _____ с.


- 2 Для того, чтобы лучше сохранить цветные рисунки в старинных книгах, между их страницами кладут листы тонкой прозрачной бумаги. Замечено, что со временем на этой бумаге появляются бледные отпечатки рисунков. Назовите физическое явление, благодаря которому краска с рисунков переходит на бумагу. В чём состоит это физическое явление?

Ответ: _____

- 3 После сбора урожая Михаил Юрьевич решил перевезти картошку с дачи в гараж. Загрузив клубни в прицеп, он обнаружил, что прицеп просел на 0,1 м. Определите жёсткость одной пружины подвески прицепа, если масса загруженной картошки 300 кг, а нагрузка распределяется между колёсами поровну. Считайте, что колёс (и пружин в подвеске) у прицепа два.

Ответ: _____ Н/м.

- 4 Мальчик Витя сам собирает радиоуправляемые машинки. Чтобы понять, удачной ли получилась машинка, Витя определяет её скорость на тестовой дистанции. После проверки одной из машинок Витя потерял листок с расчётами и всё, что у него осталось, это график зависимости пройденной машинкой дистанции от времени её движения. Помогите Вите найти скорость



движения машинки.

Ответ: _____ м/с.

5

Люда увидела в кабинете физики уравновешенные рычажные весы и лежащие рядом гири, и ей ужасно захотелось что-нибудь взвесить. Она положила на одну чашу весов ручку, а на другую – три гири по 20 г и одну гирю массой 5 г. Какова масса ручки?

Ответ: _____ г.

6

Ваня с папой ехали на машине по горизонтальной дороге. Во время остановки на светофоре Ване стало интересно: какое давление оказывает машина на дорогу? Помогите Ване ответить на этот вопрос, если площадь контакта каждого колеса машины с дорогой равна $0,015 \text{ м}^2$, а масса автомобиля с пассажирами составляет 1200 кг. Ускорение свободного падения 10 Н/кг .

Ответ: _____ кПа.

7

На занятиях кружка по физике Слава решил изучить, как зависит жёсткость лёгкой пружины от количества её витков. Для этого он подвесил к вертикальной пружине груз массой 60 г, а затем, уменьшая число витков пружины, снова подвешивал груз. В таблице представлена зависимость растяжения пружины от количества её витков.

Количество витков пружины	Растяжение пружины, см
6	2
12	4
18	6
24	8
30	10

Какой можно сделать вывод о зависимости жёсткости пружины от количества витков по итогам данного исследования?

Ответ: _____

8

Спортсмен, занимающийся дайвингом, погрузился в воду на глубину 120 метров. Определите, во сколько раз отличается давление, которое испытывает на себе спортсмен на этой глубине, от давления, испытываемого им на поверхности воды, если давление, создаваемое десятью метрами водяного столба, эквивалентно атмосферному давлению.

Ответ: в _____ раз(а).

9

Некоторые люди любят пить зимой витаминный напиток – сок из чёрной смородины, смешанный с мёдом. Плотность сока равна 1 г/см^3 , а плотность мёда в 1,5 раза больше плотности сока.

1) Определите плотность мёда.

2) Какова плотность такой смеси, если в 320 г сока растворили 120 г мёда? При растворении мёда в соке объём смеси можно считать равным сумме объёмов исходных компонентов смеси.

Ответ: 1) _____ г/см^3 ;

2) _____ г/см^3 .

Система оценивания проверочной работы

Правильный ответ на каждое из заданий 1, 3-6, 8 оценивается 1 баллом.

Полный правильный ответ на задание 9 оценивается 2 баллами. Если в ответе допущена одна ошибка (одно из чисел не записано или записано неправильно), выставляется 1 балл; если оба числа записаны неправильно или не записаны – 0 баллов.

№ задания	Ответ
1	2,5
3	125000000
4	20
5	50
6	6
8	0,04
9	8; 12

Решения и указания к оцениванию заданий 2, 7, 10 и 11

Решение	
2. Взаимодействие (притяжение) молекул. Молекулы ртути притягиваются к молекулам меди сильнее, чем молекулы масла.	
Указания к оцениванию	Баллы
Приведены полностью правильные ответы на оба вопроса задачи и все необходимые объяснения.	2
В решении имеется один или несколько из следующих недостатков: Приведён только правильный ответ без его объяснения. И (ИЛИ) В решении даны верные ответы на оба вопроса, но имеется неточность в их объяснении.	1
Все случаи решения, которые не соответствуют вышеуказанным критериям выставления оценок в 1 или 2 балла.	0
<i>Максимальный балл</i>	
	2

Решение	
7. Да. При равномерном движении за любые равные промежутки времени тело проходит равные пути.	
Указания к оцениванию	Баллы
Приведён полностью правильный ответ на вопрос и дано правильное объяснение.	2
В решении имеется один или несколько из следующих недостатков. Приведён только правильный ответ на вопрос без объяснения. ИЛИ Приведено правильное объяснение, но правильный ответ в явном виде отсутствует. И (ИЛИ) Дан правильный ответ на вопрос, но в объяснении имеется неточность.	1
Все случаи решения, которые не соответствуют вышеуказанным критериям выставления оценок в 1 или 2 балла.	0
<i>Максимальный балл</i>	
	2

10

Решение	
<p>1) $m = 1,166 \text{ кг} = 1166 \text{ г}$.</p> <p>2) Внешний объём колбы равен сумме объёмов ртути и стекла $V = V_p + V_c$, масса колбы со ртутью $m = \rho_p \cdot V_p + \rho_c \cdot V_c$. Отсюда объём ртути $V_p = (m - \rho_c V) / (\rho_p - \rho_c) = 60 \text{ см}^3$, а масса ртути $m_p = \rho_p V_p = 0,816 \text{ кг}$.</p> <p>3) Масса пустой стеклянной колбы $m_c = m - m_p = 0,35 \text{ кг}$. Поэтому $m_p/m_c \approx 2,33$.</p> <p>Допускается другая формулировка рассуждений.</p> <p>Ответ: 1) $m = 1166 \text{ г}$; 2) $m_p = 0,816 \text{ кг}$; $m_p/m_c \approx 2,33$.</p>	
Указания к оцениванию	Баллы
<p>Приведено полное решение, включающее следующие элементы:</p> <p>I) записаны положения теории, физические законы, закономерности, формулы и т.п., применение которых необходимо для решения задачи выбранным способом (в данном случае: <i>связь между массой, объёмом и плотностью</i>);</p> <p>II) проведены нужные рассуждения, верно осуществлена работа с графиками, схемами, таблицами (при необходимости), сделаны необходимые математические преобразования и расчёты, приводящие к правильному числовому ответу (допускается решение «по частям» с промежуточными вычислениями; часть промежуточных вычислений может быть проведена «в уме»; задача может решаться как в общем виде, так и путём проведения вычислений непосредственно с заданными в условии численными значениями);</p> <p>III) представлен правильный численный ответ на все три вопроса задачи с указанием единиц измерения искомой величины.</p>	3
Приведено полное верное решение (I, II) и дан правильный ответ (III) только для двух пунктов задачи	2
Приведено полное верное решение (I, II) и дан правильный ответ (III) только для одного пункта задачи	1
Все случаи решения, которые не соответствуют вышеуказанным критериям выставления оценок в 1, 2 или 3 балла	0
<i>Максимальный балл</i>	3

11

Решение	
<p>1) Масса 1 мл воды равна 1 г, поэтому одна порция воды объёмом 15 мл имеет массу 15 г.</p> <p>2) В стакан было долито 75 г воды. Чашка весов со стаканом перевесила, когда её масса стала равна 175 г.</p> <p>3) Масса подарка меньше 175 г, но больше 165 г. Таким образом масса подарка около 170 г.</p> <p>Допускается другая формулировка рассуждений. Ответ: 1) 15 г; 2) 75 г; 3) 170 г.</p>	
Указания к оцениванию	Баллы
<p>Приведено полное решение, включающее следующие элементы:</p> <p>I) записаны положения теории, физические законы, закономерности, формулы и т.п., <u>применение которых необходимо</u> для решения задачи выбранным способом (в данном случае: <i>связь между объёмом тела, массой и плотностью; условие равновесия рычажных весов</i>);</p> <p>II) проведены нужные рассуждения, верно осуществлена работа с графиками, схемами, таблицами (при необходимости), сделаны необходимые математические преобразования и расчёты, приводящие к правильному числовому ответу (допускается решение «по частям» с промежуточными вычислениями; часть промежуточных вычислений может быть проведена «в уме»; задача может решаться как в общем виде, так и путём проведения вычислений непосредственно с заданными в условии численными значениями);</p> <p>III) представлен правильный численный ответ на все три вопроса задачи с указанием единиц измерения искомой величины.</p>	3
Приведено полное верное решение (I, II) и дан правильный ответ (III) только для двух пунктов задачи	2
Приведено полное верное решение (I, II) и дан правильный ответ (III) только для одного пункта задачи	1
Все случаи решения, которые не соответствуют вышеуказанным критериям выставления оценок в 1, 2 или 3 балла	0
<i>Максимальный балл</i>	3

Система оценивания выполнения всей работы

Максимальный балл за выполнение работы □ **18**.

Рекомендуемая таблица перевода баллов в отметки по пятибалльной шкале

Отметка по пятибалльной шкале	«2»	«3»	«4»	«5»
Первичные баллы	0–4	5–7	8–10	11–18

Вариант №2

Система оценивания проверочной работы

Правильный ответ на каждое из заданий 1, 3-6, 8 оценивается 1 баллом.

Полный правильный ответ на задание 9 оценивается 2 баллами. Если в ответе допущена одна ошибка (одно из чисел не записано или записано неправильно), выставляется 1 балл; если оба числа записаны неправильно или не записаны – 0 баллов.

№ задания	Ответ
1	248
3	15000
4	7
5	65
6	200
8	13
9	1,5; 1,1

Решения и указания к оцениванию заданий 2, 7, 10 и 11

2

Решение		
Диффузия. Это процесс взаимного проникновения молекул (атомов) одного вещества между молекулами (атомами) другого вещества вследствие хаотического теплового движения.		
Указания к оцениванию		Баллы
Приведён полностью правильный ответ на оба вопроса, содержащий название явления и его правильное описание	правильное	2
В решении имеется один или несколько из следующих недостатков: Приведено только правильное название явления без его описания. ИЛИ Приведено только правильное описание явления без указания его названия. И (ИЛИ) В решении дан ответ на оба вопроса, но имеется неточность в названии явления или в его описании.		1

Решение

Жёсткость пружины при увеличении числа витков в ней уменьшается (вариант: обратно пропорциональна количеству витков). При увеличении числа витков растёт растяжение пружины, следовательно, жёсткость уменьшается (увеличение числа витков в 2 раза приводит к увеличению растяжения в 2 раза, т.е. жёсткость обратно пропорциональна количеству витков).

Указания к оцениванию

Баллы

Приведён полностью правильный ответ на вопрос и дано правильное объяснение.

2

В решении имеется один или несколько из следующих недостатков:

Приведён только правильный ответ на вопрос без объяснения.

ИЛИ

Приведено правильное объяснение, но правильный ответ на вопрос дан лишь частично, либо ответ в явном виде отсутствует.

И (ИЛИ)

В решении дан правильный ответ на вопрос, но в объяснении имеется неточность.

1

Все случаи решения, которые не соответствуют вышеуказанным критериям выставления оценок в 1 или 2 балла.

0

Максимальный балл

2

10

Решение

1) Скорость относительно берега при движении по течению больше, чем при движении против него. Следовательно, график с большим наклоном соответствует движению теплохода по течению.

Пользуясь графиком, определим, что скорость теплохода при движении по течению реки $v_1 = 36$ км/ч.

2) Пользуясь графиком, определим, что скорость теплохода при движении против течения $v_2 = 20$ км/ч.

3) Пусть скорость течения равна u . Тогда скорость теплохода в стоячей воде $v = v_1 - u = v_2 + u$, откуда скорость течения $u = (v_1 - v_2)/2 = 8$ км/ч, а скорость теплохода в стоячей воде $v = 28$ км/ч. Тогда путь, пройденный теплоходом за $t = 30$ минут = 0,5 ч, составляет $S = v \cdot t = 14$ км.

Допускается другая формулировка рассуждений.

Ответ: 1) $v_1 = 36$ км/ч; 2) $v_2 = 20$ км/ч; 3) $S = 14$ км.

Указания к оцениванию	Баллы
Приведено полное решение, включающее следующие элементы: I) записаны положения теории, физические законы, закономерности, формулы и т.п., <u>применение которых необходимо</u> для решения задачи выбранным способом (в данном случае: <i>связь между скоростью, временем движения и пройденным за это время путём; закон сложения скоростей</i>); II) проведены нужные рассуждения, верно осуществлена работа с графиками, схемами, таблицами (при необходимости), сделаны необходимые математические преобразования и расчёты, приводящие к правильному числовому ответу (допускается решение «по частям» с промежуточными вычислениями; часть промежуточных вычислений может быть проведена «в уме»; задача может решаться как в общем виде, так и путём проведения вычислений непосредственно с заданными в условии численными значениями); III) представлен правильный численный ответ на все три вопроса задачи с указанием единиц измерения искомой величины.	3
Приведено полное верное решение (I, II) и дан правильный ответ (III) только для двух из трёх вопросов задачи	2
Приведено полное верное решение (I, II) и дан правильный ответ (III) только для одного из трёх вопросов задачи	1
Все случаи решения, которые не соответствуют вышеуказанным критериям выставления оценок в 1, 2 или 3 балла	0
<i>Максимальный балл</i>	3

11

Решение	
<p>1) Расстояние между соответствующими пиками соседних сердечных циклов – 25 мм, то есть 1,0 с. Поэтому за минуту происходит 60 ударов пульса. <i>Ответ в диапазоне 58–62 ударов/мин следует считать правильным.</i></p> <p>2) Длина интервала <i>PT</i> на записи составляет около 12 мм. Поэтому продолжительность интервала <i>PT</i> примерно равна $(12 \text{ мм}) / (25 \text{ мм/с}) \approx 0,48 \text{ с}$. <i>Ответ в пределах (0,44 с; 0,52 с) следует считать правильным.</i></p> <p>3) Длина ленты $\approx 124 \text{ мм}$, что соответствует продолжительности фрагмента $\approx 5,0 \text{ с}$. Допускается другая формулировка рассуждений и отклонение числовых ответов из-за округления при снятии координат с рисунка. Ответ: 60 ударов в минуту; 0,48 с; $\approx 5 \text{ с}$.</p>	
Указания к оцениванию	Баллы
<p>Приведено полное решение, включающее следующие элементы: I) записаны положения теории, физические законы, закономерности, формулы и т.п., <u>применение которых необходимо</u> для решения задачи выбранным способом (в данном случае: <i>связь между скоростью, временем движения и пройденным за это время путём; продемонстрировано умение определять величину при её прямом измерении</i>); II) проведены нужные рассуждения, верно осуществлена работа с графиками, схемами, таблицами (при необходимости), сделаны необходимые математические преобразования и расчёты, приводящие к правильному числовому ответу (допускается решение «по частям» с промежуточными вычислениями; часть промежуточных вычислений может быть проведена «в уме»; задача может решаться как в общем виде, так и путём проведения вычислений непосредственно с заданными в условии численными значениями); III) представлен правильный численный ответ на все три вопроса задачи с указанием единиц измерения искомой величины.</p>	3
Приведено полное верное решение (I, II) и дан правильный ответ (III) только для двух пунктов задачи	2
Приведено полное верное решение (I, II) и дан правильный ответ (III) только для одного пункта задачи	1
Все случаи решения, которые не соответствуют вышеуказанным критериям выставления оценок в 1, 2 или 3 балла	0
<i>Максимальный балл</i>	3

Система оценивания выполнения всей работы

Максимальный балл за выполнение работы □ **18**.

Рекомендуемая таблица перевода баллов в отметки по пятибалльной шкале

Отметка по пятибалльной шкале	«2»	«3»	«4»	«5»
Первичные баллы	0–4	5–7	8–10	11–18